

# Testbogen Juniorabzeichen

## THEORIE



1. Wähle den Schlüssel deines Instrumentes und benenne die Töne!

 <u>c<sup>1</sup></u> <u>h<sup>1</sup></u> <u>es<sup>1</sup></u> <u>a<sup>2</sup></u>	 <u>C</u> <u>H</u> <u>es</u> <u>a</u>	4
--	--	---

2. Wie heißen folgende Zeichen und was bewirken sie? (Ordne zu!)

<b>A</b>	<b>B</b> Auflösungszeichen	<b>C</b> Der Ton wird einen Halbton höher
<b>B</b>	<b>C</b> Kreuz	<b>A</b> Der Ton wird einen Halbton tiefer
<b>C</b>	<b>A</b> B	<b>B</b> Macht Halbtonveränderung wieder rückgängig

3. Ordne die Begriffe den Notenwerten und Pausenzeichen zu!

<b>A</b> Halbe Note/Halbe Pause	<b>D</b>	<b>B</b>
<b>B</b> Viertelnote/Viertelpause	<b>C</b>	<b>A</b>
<b>C</b> Ganze Note/Ganze Pause	<b>B</b>	<b>D</b>
<b>D</b> Achtelnote/Achtelpause	<b>A</b>	<b>C</b>

4. Die Verlängerung der Notenwerte – ordne zu!


<b>A</b>	<b>A</b>
<b>B</b>	<b>B</b>

4	
6	
8	
2	
20	


5. In jedem Takt fehlt ein Notenwert – ergänze bei x!




6. Wähle den Schlüssel deines Instrumentes und schreibe die Noten in der richtigen Reihenfolge von unten nach oben!




7. Ordne folgende Zeichen und Begriffe einander zu!



**B** Wiederholungszeichen



**C** Taktstrich



**A** Schlusstrich

8. Wie heißen folgende Zeichen und was bedeuten sie? (Ordne zu!)

**A** *mf*

**C** forte

**B** leise spielen

**B** *p*

**A** mezzoforte

**C** laut/stark spielen



**C** *f*

**B** piano

**A** halblaut/halb stark spielen

20	
3	
8	
3	
6	
40	

9. Ordne den Notenbeispielen die Begriffe und Bedeutungen zu!

A		A	legato	B	kurz spielen
B		B	staccato	A	gebunden spielen

40

4



## GEHÖRBILDUNG

10. Welcher Rhythmus wurde gespielt? (Kreuze an!)

1	<input type="checkbox"/>		<input checked="" type="checkbox"/>	
2	<input checked="" type="checkbox"/>		<input type="checkbox"/>	
3	<input checked="" type="checkbox"/>		<input type="checkbox"/>	
4	<input type="checkbox"/>		<input checked="" type="checkbox"/>	

4

11. Wähle den Schlüssel deines Instrumentes und ergänze bei x den gehörten Ton!

	x	x	x	x
	x	x	x	x

4

Notenschlüssel Theorie/Gehörbildung:  
 52 - 44 Punkte = Note 1  
 43 - 35 Punkte = Note 2  
 34 - 00 Punkte = Note 3

Note:	<b>52</b>
-------	-----------