

Testbogen Juniorabzeichen

THEORIE



1. Wähle den Schlüssel deines Instrumentes und benenne die Töne!

e¹ cis² f² d¹

E cis f D

4

2. Wie heißen folgende Zeichen und was bewirken sie? (Ordne zu!)

A

B Kreuz

C Der Ton wird einen Halbton tiefer

B

C B

A Macht Halbtonveränderung wieder rückgängig

C

A Auflösungszeichen

B Der Ton wird einen Halbton höher

6

3. Ordne die Begriffe den Notenwerten und Pausenzeichen zu!

A Achtelnote/Achtelpause

B

D

B Viertelnote/Viertelpause

C

A

C Ganze Note/Ganze Pause

D

B

D Halbe Note/Halbe Pause

A

C

8

4. Die Verlängerung der Notenwerte – ordne zu!

A

B

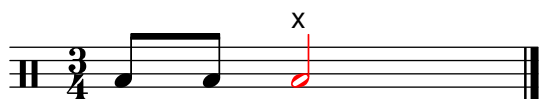
B

A


2

20


5. In jedem Takt fehlt ein Notenwert – ergänze bei x!




6. Wähle den Schlüssel deines Instrumentes und schreibe die Noten in der richtigen Reihenfolge von unten nach oben!




7. Ordne folgende Zeichen und Begriffe einander zu!



C Wiederholungszeichen



A Schlusstrich



B Taktstrich

8. Wie heißen folgende Zeichen und was bedeuten sie? (Ordne zu!)

A *p*

C forte

B halblaut/halbstark spielen

B *mf*

A piano

C laut/stark spielen

C *f*

B mezzoforte

A leise spielen

20	
3	
8	
3	
6	
40	

9. Ordne den Notenbeispielen die Begriffe und Bedeutungen zu!



B staccato

B kurz spielen



A legato

A gebunden spielen

40

4

GEHÖRBILDUNG

10. Welcher Rhythmus wurde gespielt? (Kreuze an!)



4

11. Wähle den Schlüssel deines Instrumentes und ergänze bei x den gehörten Ton!

4

Notenschlüssel Theorie/Gehörbildung:
52 - 44 Punkte = Note 1
43 - 35 Punkte = Note 2
34 - 00 Punkte = Note 3

Note:

52