

# Testbogen Newcomer-Abzeichen THEORIE



1. Wähle den Schlüssel deines Instruments. Welche Note kennzeichnet er? (Kreuze an!)

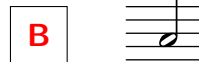


a<sup>1</sup>    g<sup>1</sup>    h<sup>1</sup>

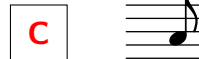
h    f    a

2. Ordne den Begriffen die Notenwerte zu!

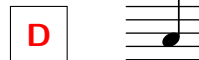
**A** Ganze Note



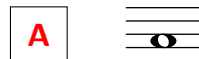
**B** Halbe Note



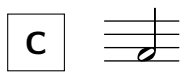
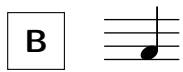

**C** Achtelnote



**D** Viertelnote



3. Welche Noten haben die gleiche Dauer? (Ordne zu!)



4. Was bedeuten folgende Zeichen? (Ordne zu!)

**A** *p*

**B** laut/stark spielen

**B** *f*

**A** leise spielen

1

4

3

2

10

# GEHÖRBILDUNG


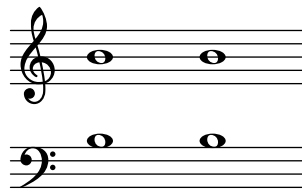

10

5. Welcher Rhythmus wurde gespielt? (Kreuze an!)

1	<input checked="" type="checkbox"/>		<input type="checkbox"/>	
2	<input checked="" type="checkbox"/>		<input type="checkbox"/>	
3	<input type="checkbox"/>		<input checked="" type="checkbox"/>	
4	<input type="checkbox"/>		<input checked="" type="checkbox"/>	

4

6. Wähle den Schlüssel deines Instrumentes. Welche Töne wurden gespielt? (Kreuze an!)

1	<input checked="" type="checkbox"/>		<input type="checkbox"/>	
2	<input checked="" type="checkbox"/>		<input type="checkbox"/>	
3	<input checked="" type="checkbox"/>		<input type="checkbox"/>	

3

17