

Testbogen Newcomer-Abzeichen THEORIE



1. Wähle den Schlüssel deines Instruments. Welche Note kennzeichnet er? (Kreuze an!)




f¹ g¹ e¹


g f d

2. Ordne den Begriffen die Notenwerte zu!


A Achtelnote




B Ganze Note



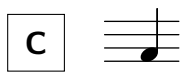
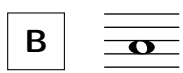
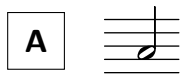
C Halbe Note



D Viertelnote



3. Welche Noten haben die gleiche Dauer? (Ordne zu!)



4. Was bedeuten folgende Zeichen? (Ordne zu!)

A *f*

leise spielen

B *p*

laut/stark spielen

1

4

3

2

10

GEHÖRBILDUNG

10	
4	
3	
17	

5. Welcher Rhythmus wurde gespielt? (Kreuze an!)

1	<input type="checkbox"/>	<input type="checkbox"/>
2	<input type="checkbox"/>	<input type="checkbox"/>
3	<input type="checkbox"/>	<input type="checkbox"/>
4	<input type="checkbox"/>	<input type="checkbox"/>

6. Wähle den Schlüssel deines Instrumentes. Welche Töne wurden gespielt? (Kreuze an!)

1	<input type="checkbox"/>	<input type="checkbox"/>
2	<input type="checkbox"/>	<input type="checkbox"/>
3	<input type="checkbox"/>	<input type="checkbox"/>